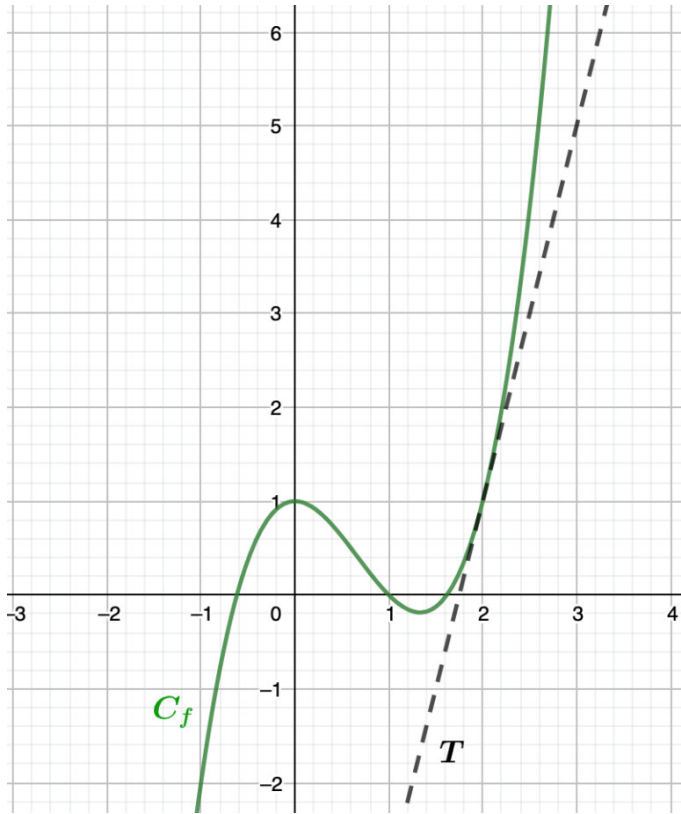


**Exercise 1**

Calc. : ✖

Given are the graph of a function  $f$  and its tangent line  $T$  in the point with  $x = 2$ .



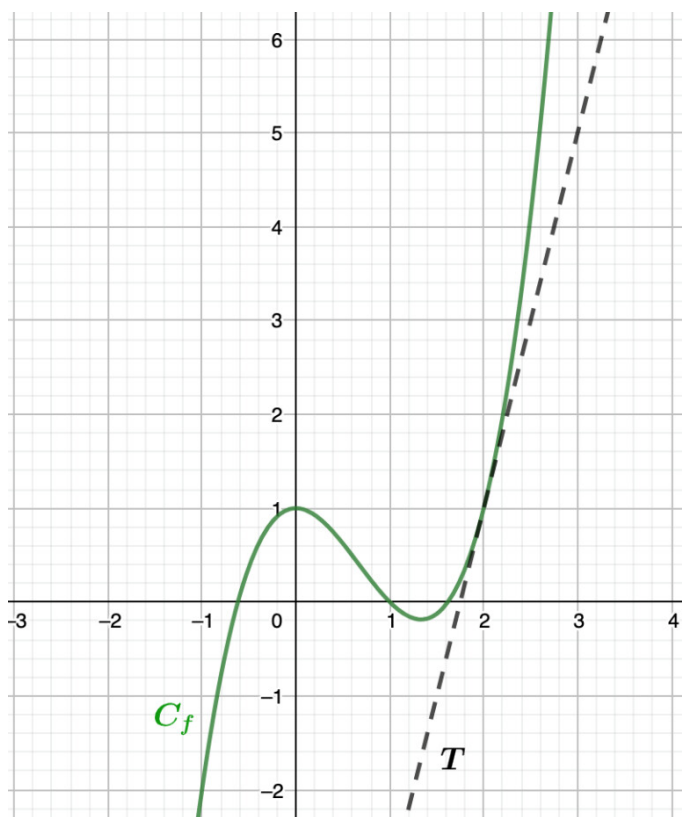
Determine  $f(2)$  and  $f'(2)$ .

5 marks

**Exercise 2**

Calc. : ✖

La figure ci-dessous montre le graphique d'une fonction  $f$  et de sa tangente  $T$  au point d'abscisse  $x = 2$ .



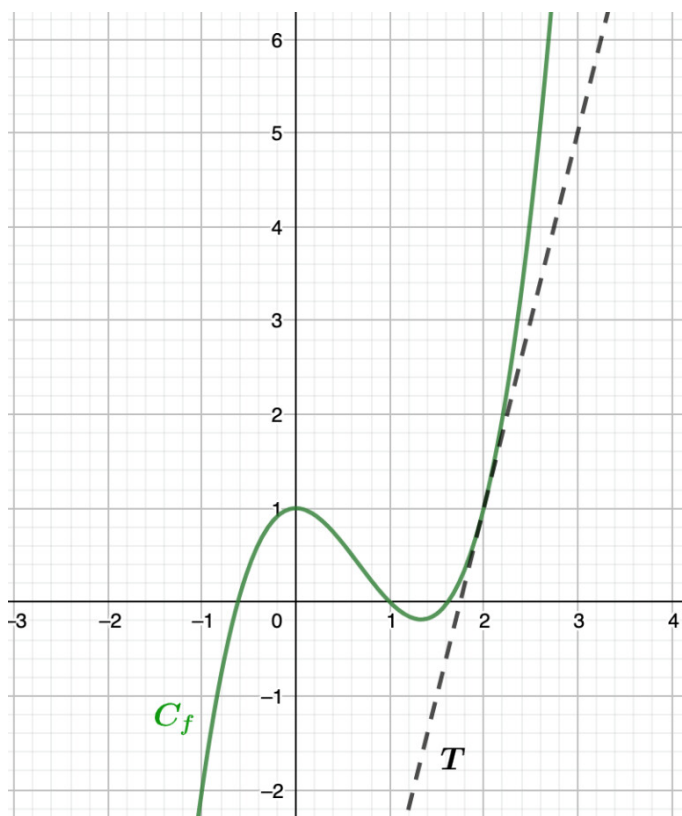
Déterminer  $f(2)$  et  $f'(2)$ .

5 marks

**Exercise 3**

Calc. : ✖

Alla olevassa kuvassa on esitetty funktion  $f$  kuvaaja sekä funktiolle kohtaan  $x = 2$  piirretyn tangentin  $T$  kuvaaja.



Määritä  $f(2)$  ja  $f'(2)$ .

5 marks