




Exercise 1

Calc. : ✖

Na podstawie tabeli podaj informacje:

5 marks

x	$(-\infty; 0)$	0	$(0; 3)$	3	$(3; \infty)$
$f'(x)$	-	0	+	0	-
$f(x)$	1 	-6		4	 1

1. argumenty, dla których funkcja posiada ekstrema lokalne i jaki jest ich rodzaj
2. przedział, w którym funkcja jest rosnąca.