

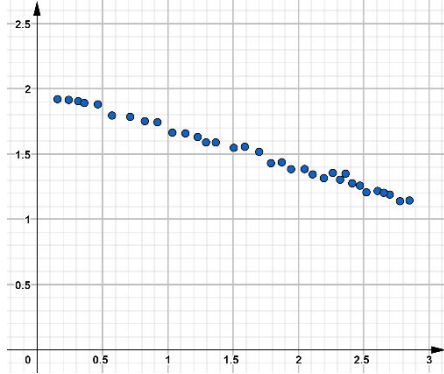
Exercise 1

Calc. : **X**

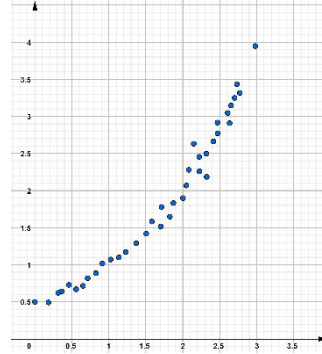
6 marks

Pour chacun des nuages de points suivants, **indiquer**, parmi les modèles proposés, lequel serait le plus approprié pour ajuster les données représentées : modèles linéaires, quadratiques, exponentiels ou périodiques.

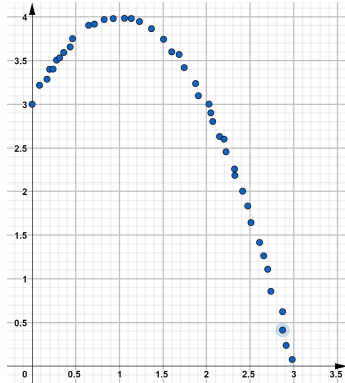
Nuage (i)



Nuage (ii)



Nuage (iii)



Nuage (iv)

