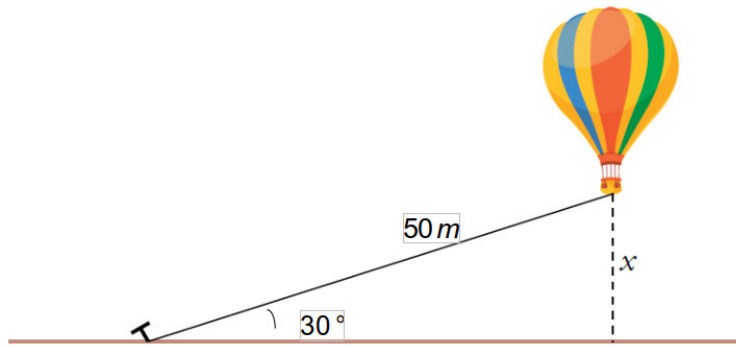


Exercise 1

Calc. : ✓

Le ballon dans l'image est attaché au sol avec une corde de 50 mètres.



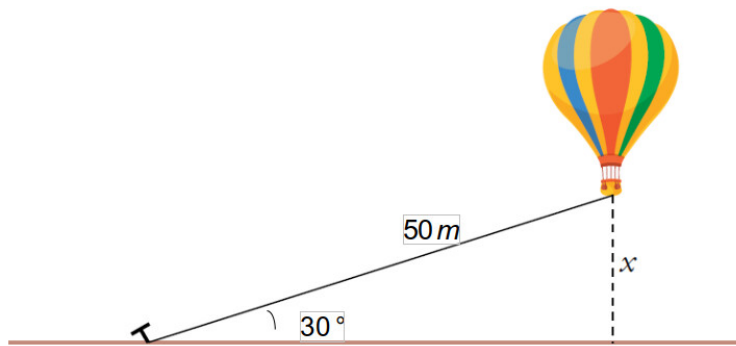
Calculez la distance entre le sol et le fond du panier du ballon.

3.5 marks

Exercise 2

Calc. : ✓

Der Ballon auf dem Bild ist mit einem 50 Meter langen Seil am Boden befestigt.



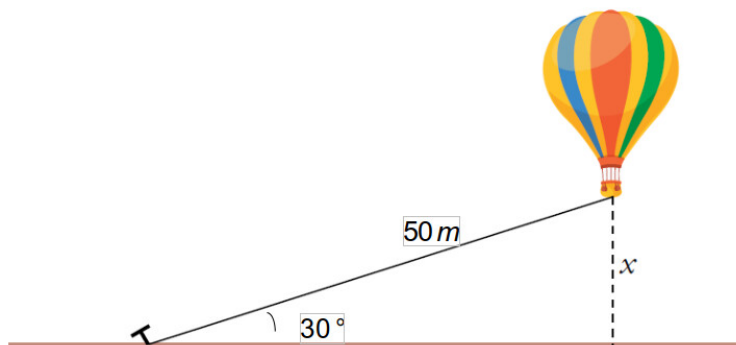
Berechne den Abstand zwischen dem Boden und dem Boden des Ballonkorbs.

3.5 marks

Exercise 3

Calc. : ✓

The balloon in the image is tied to the ground with a 50 meter rope.



Calculate the distance between the ground and the bottom of the balloon basket.

3.5 marks