

$f(x) := -x^2 + 2 \cdot x + \frac{1}{4}$ ▶ Terminé

$g(x) := \frac{e^x}{4}$ ▶ Terminé

a) 4 points $f_p(x) := \frac{d}{dx}(f(x))$ ▶ Terminé

solve($f_p(x) \geq 0, x$) ▶ $x \leq 1$ et solve($f_p(x) \leq 0, x$) ▶ $x \geq 1$.

Donc f est croissante dans $]-\infty ; 1]$ et décroissante dans $[1 ; +\infty[$. f admet donc un

maximum en 1 et $f(1) \triangleright \frac{5}{4}$. D'où le point de

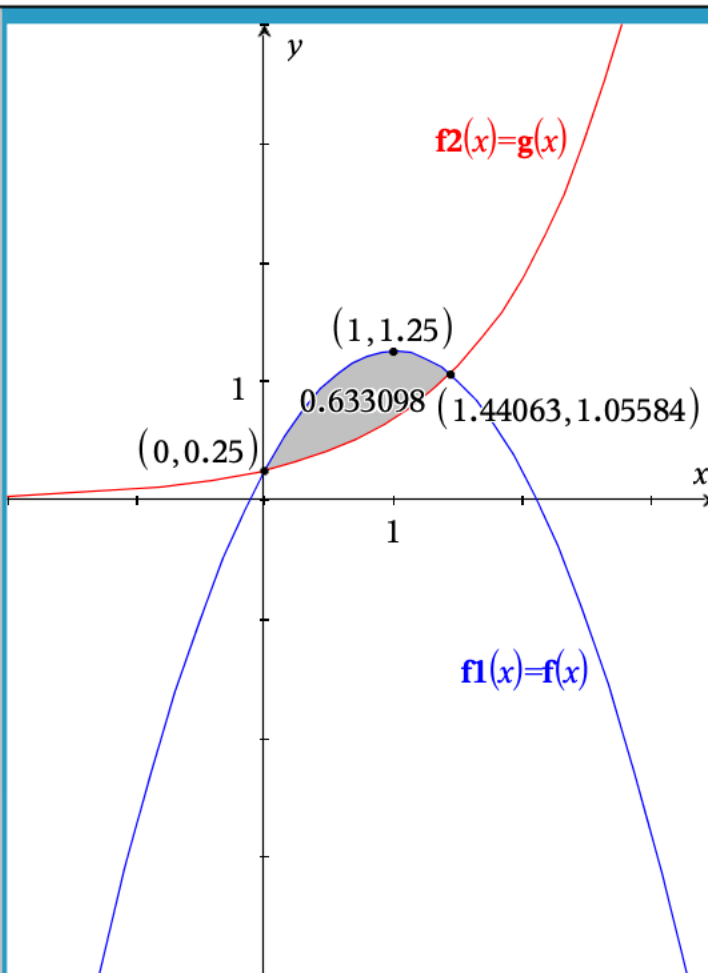
coordonnées $\left(1 ; \frac{5}{4}\right)$ associé au **maximum** de f .

Autre méthode : voir ci-dessous.

b) 2 points voir ci-contre.

Signe de la dérivée et variations de la fonction : 2 points.

Coordonnées du point associé au maximum de f : 2 points.



a) suite

OU : f est une fonction du second degré avec un coefficient de x^2 qui est négatif.

Donc f admet un maximum en $x = \frac{-b}{2a} = \frac{-2}{-2} \triangleright 1$ et $f(1) \triangleright \frac{5}{4}$.

D'où le point de coordonnées $\left(1 ; \frac{5}{4}\right)$ associé au **maximum** de f .

On en déduit que f est croissante dans $]-\infty ; 1]$ et décroissante dans $[1 ; +\infty[$.

Détermination des coordonnées du sommet de la parabole : 2 points.

Variations de la fonction : 2 points.

c) 4 points Abscisses des points d'intersection des graphiques de f et g :

solve($f(x)=g(x), x$) ▶ $x=0$. or $x=1.44063$ ⚠.

On peut aussi trouver les coordonnées des points d'intersection sur le graphique : voir plus haut.

Soit A l'aire de la surface bornée délimitée par les graphiques de f et g .

$$A = \int_0^{1.44063} |f(x) - g(x)| dx \approx 0,633.$$

Cette aire peut également être déterminée sur le graphique : voir plus haut.

Abscisses des points d'intersection des graphiques de f et g : 1 point.

Formule de l'aire (pas nécessaire en cas d'analyse graphique) : 1 point.

Résultat : 2 points (ou 3 en cas d'analyse graphique).

$p(t) := 50 + 1050 \cdot e^{-0.5 \cdot t}$ ▶ Terminé

a) 3 points voir ci-contre.

b) 3 points $\frac{p(0) - p(2)}{p(0)} \approx 0.603388$. A 2 ans, le smartphone a perdu environ 60,3 % de sa valeur.

Calcul : 2 points. Conclusion : 1 point.

c) 3 points solve($p(t) = 100, t$) ▶ $t = 6.08904$.

A environ 6,1 ans, le smartphone vaut 100 €.

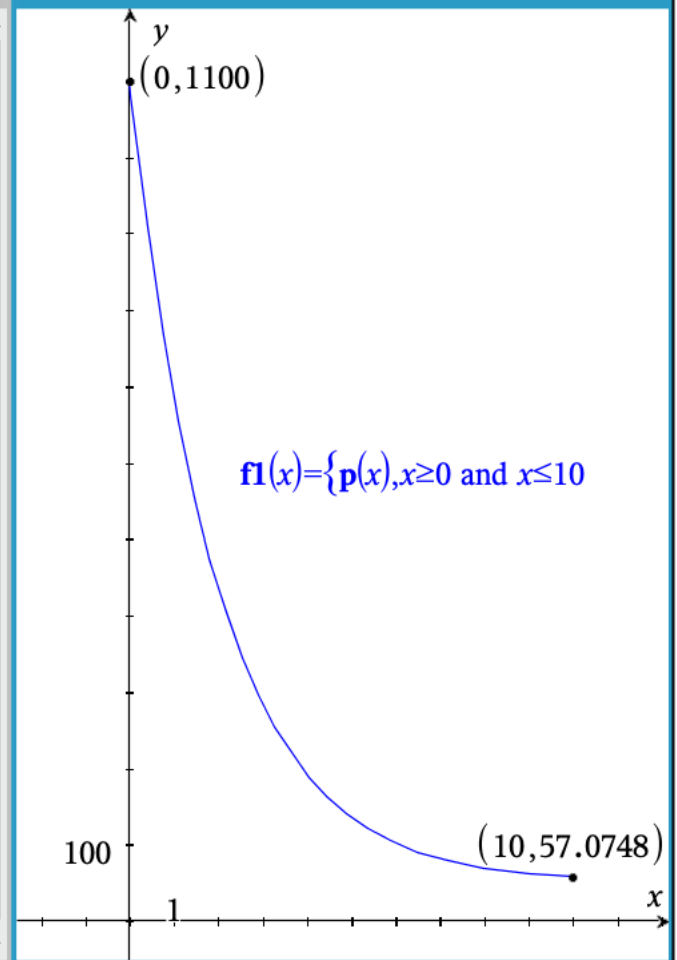
Résolution de l'équation : 1 point. Interprétation : 2 points.

d) 3 points $\frac{d}{dt}(p(t))|_{t=3} \approx -117.143$. A 3 ans, la valeur du smartphone diminue d'environ 117,14 € par an.

Calcul de la dérivée en $t=3$: 2 points. Conclusion : 1 point.

e) 3 points $\lim_{t \rightarrow \infty} (p(t)) \approx 50$. Selon le modèle, la valeur à long terme du smartphone est de 50 €.

Calcul de la limite : 2 points. Conclusion : 1 point.



Soit X la masse d'un ballon de basket. X suit une loi normale avec $\mu=545$ et $\sigma=21$ (en grammes).

a) **3 points** $P(X < 567) = \text{normCdf}(-\infty, 567, 545, 21) \approx 0.852593$.

Donc **environ 85 % des ballons de basket pèsent moins de 567 g.**

Utilisation de normCdf : 1 point. Résultat et conclusion : 2 points.

b) **2 points** Un ballon de basket n'est pas acceptable si sa masse est supérieure à 567 g ou inférieure à 510 g. $P(X > 567) = 1 - 0.852593 \approx 0.147407$ et $P(X < 510) = \text{normCdf}(-\infty, 510, 545, 21) \approx 0.04779$.

Donc $P(X > 567 \text{ ou } X < 510) = 0.147407 + 0.04779 \approx 0.195197$.

OU : $P(X > 567 \text{ ou } X < 510) = 1 - P(510 < X < 567) = 1 - \text{normCdf}(510, 567, 545, 21) \approx 0.195197$.

Donc **environ 19,5 % des ballons de basket ne sont pas acceptables.**

Méthode : 1 point. Calcul : 1 point.

Soit Y le nombre de ballons de basket, parmi les 10, qui ne sont pas acceptables.

Y suit une loi binomiale avec $n=10$ et $p=0,195$ (ou $p=0.195197$).

c) **3 points** $P(Y=5) = \text{binomPdf}(10, 0.195, 5) \approx 0.024019$

(ou $P(Y=5) = \text{binomPdf}(10, 0.195197, 5) \approx 0.024111$).

La probabilité que la moitié des 10 ballons de basket ne soit pas acceptable est donc d'environ 0,024 ou 2,4 %.

Reconnaissance de la loi binomiale et de ses paramètres (indication non obligatoire) : 1 point.

Utilisation de binomPdf : 1 point. Calcul et résultat : 1 point (ou 2 si la binomiale n'est pas indiquée).

d) **3 points** $P(Y \leq 2) = \text{binomCdf}(10, 0.195, 0, 2) \approx 0.692848$.

(ou $P(Y \leq 2) = \text{binomCdf}(10, 0.195197, 0, 2) \approx 0.692257$).

La probabilité qu'au plus 2 des 10 ballons de basket ne soient pas acceptables est donc d'environ 0,69 ou 69 %.

Utilisation de binomCdf : 1 point. Calcul et résultat : 2 points.

e) **4 points** On considère les événements A : "Le ballon est acceptable" et $\neg A$ l'événement contraire de A ainsi que U : "L'arbitre décide d'utiliser le ballon" et $\neg U$ l'événement contraire de U .

La probabilité que l'estimation de l'arbitre soit erronée =

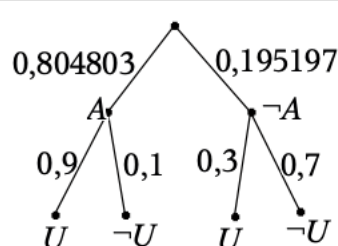
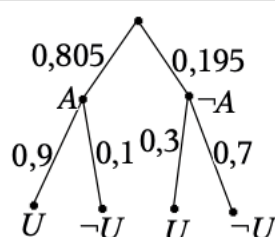
$$P(A \cap \neg U) + P(\neg A \cap U) = P(A) \cdot P(\neg U | A) + P(\neg A) \cdot P(U | \neg A) =$$

$$0.805 \cdot 0.1 + 0.195 \cdot 0.3 \approx \mathbf{0.139} \text{ (ou } 0.804803 \cdot 0.1 + 0.195197 \cdot 0.3 \approx \mathbf{0.139039} \text{)}.$$

On peut éventuellement utiliser un diagramme en arbre : voir ci-dessous.

La probabilité que l'estimation de l'arbitre soit erronée est donc d'environ 0,139 ou 13,9 %.

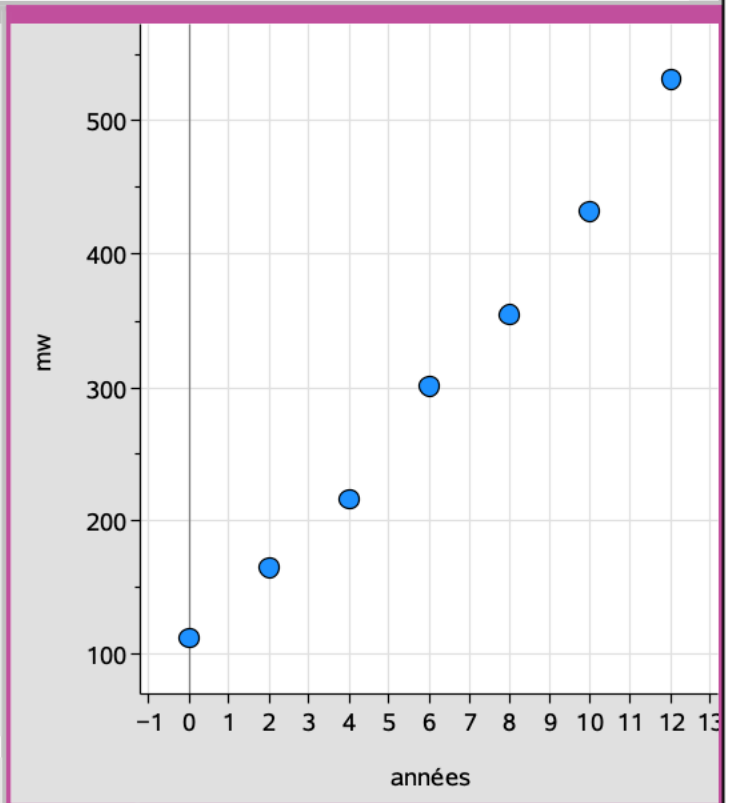
Méthode : 2 points. Calcul : 2 points. Seule construction d'un arbre : 1 point.



a) **3 points** Il semble, d'après le graphique en nuage de points ci-dessous qu'un modèle linéaire représenterait bien les données du tableau. Il y a cependant une légère courbure.

Graphique : 2 points. Explication : 1 point. Les graphiques des deux régressions ne sont pas demandés.

A années	B mw	C	D
			=LinRegM
1	0	112	Titre Régress...
2	2	164	RegEqn $m \cdot x + b$
3	4	216	m 34.4821
4	6	301	b 94.5357
5	8	354	r^2 0.989496
6	10	432	r 0.994734
7	12	531	Resid {17.4642..
8			
9			
10			
11			



b) **4 points** Equation de la droite de régression : $y = 34,4821 \cdot x + 94,5357$ (voir tableur plus haut). En arrondissant les coefficients m et b au centième : $y = 34,48 \cdot x + 94,54$. m : 2 points. b : 2 points.

c) **3 points** La production d'énergie éolienne prévue par ce modèle linéaire augmente de 34,5 MW par an.

d) **3 points** $g(x) := 122 \cdot (1,14)^x$ ▶ Terminé

En 2020, $x = 22 \Rightarrow g(22) \approx 2179,05$. En 2020, la production d'énergie éolienne prévue par ce modèle exponentiel sera d'environ 2179 MW.

Calcul de $g(22)$: 2 points. Conclusion : 1 point.

e) **4 points** solve($g(x) > 3000, x$) ▶ $x > 24,4401$. "la première fois" $\Rightarrow x = 25$. La production d'énergie éolienne prévue par ce modèle exponentiel dépassera pour la première fois 3000 MW 25 ans après 1998, donc en 2023. Inéquation à résoudre : 2 points.

Résolution : 1 point. Conclusion : 1 point.

f) **3 points** Selon ce modèle, la production d'énergie éolienne est multipliée, chaque année, par 1,14. Son taux de croissance en pourcentage est donc de 14 %.

