

**Exercice 1 - Algorithme de dichotomie**

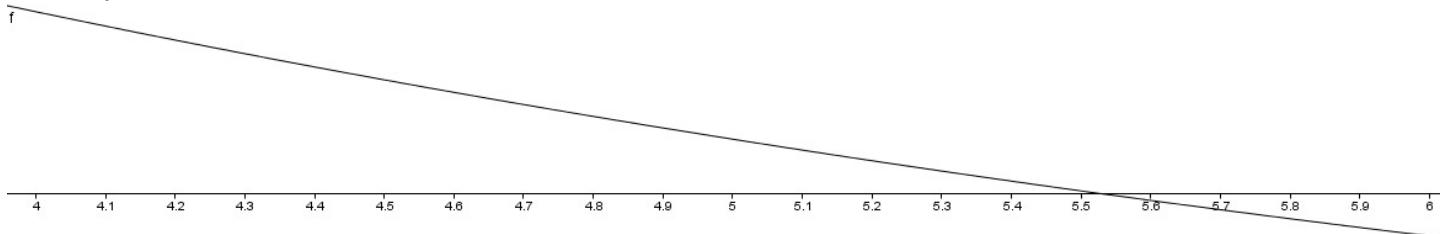
But de l'algorithme : trouver une valeur approchée de la solution (appelée  $x_0$ ) d'une équation de type  $f(x) = 0$ , quand on travaille avec un intervalle sur lequel il y a une unique solution à cette équation.

Hypothèses sur la fonction  $f$  : l'expression  $f(x)$  est trop compliquée pour que l'on puisse résoudre l'équation "à la main". Par contre, il faut que  $f$  soit strictement monotone (croissante ou décroissante) sur l'intervalle considéré.

Méthode : on va trouver une valeur approchée de  $x_0$  en réalisant des encadrements de plus en plus précis. L'algorithme consiste à recommencer les deux points suivants jusqu'à ce que la précision soit jugée suffisante :

- couper l'intervalle d'étude en deux sous-intervalles de même longueur
- prendre comme nouvel intervalle d'étude le sous-intervalle qui contient la solution

Exemple : soit  $f$  dont la courbe est la suivante. Le premier intervalle d'étude est  $[4; 6]$  et on a donc  $4 \leq x_0 \leq 6$ .



**Etape 1**

- découpage :  $[4; 6] = [4; 5] \sqcup [5; 6]$



- le nouvel intervalle d'étude est  $[5; 6]$  (donc  $5 \leq x_0 \leq 6$ )

**Etape 2**

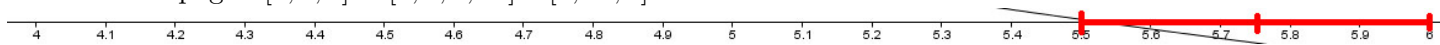
- découpage :  $[5; 6] = [5; 5,5] \sqcup [5,5; 6]$



- le nouvel intervalle d'étude est  $[5,5; 6]$  (donc  $5,5 \leq x_0 \leq 6$ )

**Etape 3**

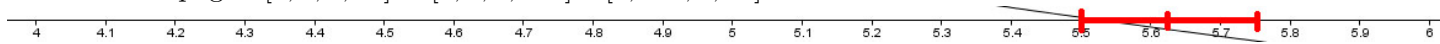
- découpage :  $[5,5; 6] = [5,5; 5,75] \sqcup [5,75; 6]$



- le nouvel intervalle d'étude est  $[5,5; 5,75]$  (donc  $5,5 \leq x_0 \leq 5,75$ )

**Etape 4**

- découpage :  $[5,5; 5,75] = [5,5; 5,625] \sqcup [5,625; 5,75]$



- le nouvel intervalle d'étude est  $[5,5; 5,625]$  (donc  $5,5 \leq x_0 \leq 5,625$ )  
etc.

Notations : dans l'algorithme, au fur et à mesure on va appeler  $a$  et  $b$  les bornes respectivement inférieure et supérieure de l'intervalle sur lequel on travaille. A chaque fois qu'on coupe l'intervalle de travail en deux, on va appeler  $m$  le nombre du milieu.

Dans l'exemple, au début  $a = 4$  ;  $b = 6$ . Quand on coupe en deux on a donc  $m = 5$ . On change alors d'intervalle ce qui donne  $a = 5$  et  $b$  reste inchangé. Quand on recoupe en deux on a alors  $m = 5,5$ , etc.

Pour savoir sur quel intervalle travailler (et quelle borne changer), il suffit de comparer les signes de  $f(a)$  et  $f(m)$ . S'ils ont même signe, alors c'est que la solution est sur  $[m; b]$  : on change donc la valeur de  $a$ . Sinon c'est que la solution est sur  $[a; m]$  : on change donc la valeur de  $b$ . (Rappel : deux nombres ont le même signe ssi leur produit est positif, c'est donc le test effectué par l'algorithme.)

Application : recherche de la solution de  $F_1(x) = 0$  dans l'intervalle  $[0; 1]$  avec  $F_1 : x \mapsto x^3 + 2x - 2$ . Dans Algobox, se servir de l'onglet "Utiliser une fonction numérique" et rentrer la formule suivante :  $x * x * x + 2 * x - 2$  (on ne peut pas rentrer  $x \wedge 3 + 2x - 2$  comme sur les calculatrices puisque ce n'est pas comme ça qu'Algobox interprète les accents circonflexes. En revanche on peut rentrer  $\text{pow}(x, 3) + 2 * x - 2$ )

### Algorithme exercice 1.

Variables :

$a, b$  et  $m$  sont trois nombres réels.

Corps de l'algorithme :

```

1   $a \leftarrow 0$ 
2   $b \leftarrow 1$ 
3  Tant que  $(b - a) > 0,01$ 
4       $m \leftarrow \frac{a + b}{2}$ 
5      Si  $F_1(m) \times F_1(a) \geq 0$ , alors
6           $a \leftarrow m$ 
7      Sinon
8           $b \leftarrow m$ 
9      Fin du Si
10 Fin du Tant Que
11 Afficher le message "La solution est comprise entre "
12 Afficher la variable  $a$ 
13 Afficher le message " et "
14 Afficher la variable  $b$ 

```

1. Expliquer pourquoi il y a bien un unique endroit où la fonction  $F_1$  s'annule sur  $[0; 1]$ .
2. Proposer (et remplir) un tableau des valeurs des variables  $a, b$  et  $m$  au fur et à mesure de l'algorithme.
3. En déduire une valeur approchée à  $10^{-2}$  près de la solution de  $F_1(x) = 0$  dans l'intervalle  $[0; 1]$ .

### Exercice 2 - Symbole somme

1. Ecrire avec le symbole  $\sum$  la somme suivante :  $S = 1 + 4 + 9 + \dots + 196$ .
2. Quelle valeur doit-on saisir pour  $N$  pour que l'algorithme suivant affiche cette somme ?

### Algorithme exercice 2.

Variables :

$N, I$  et  $S$  sont trois nombres entiers.

Corps de l'algorithme :

```

1  Afficher "Donnez-moi un entier positif : "
2  Saisir  $N$ 
3   $S \leftarrow 0$ 
4  Pour  $I$  allant de 1 à  $N$ 
5       $S \leftarrow S + I \times I$ 
6  Fin du Pour
7  Afficher la variable  $S$ 

```

3. Proposer un algorithme similaire pour calculer le produit  $N! = 1 \times 2 \times 3 \times \dots \times N$  quand l'utilisateur saisit la valeur de  $N$ .